

GUÍA TEMÁTICA
Evaluación 3er Trimestre
Ciclo Escolar 2022-2023
KII

Nombre : _____ **Grado y Grupo:** _____

Miss Ana Macías.

I. Lenguaje y comunicación

Escribe tu nombre _____

Dictado de palabras con las letras m, l, s y p


1- _____

2- _____

3- _____

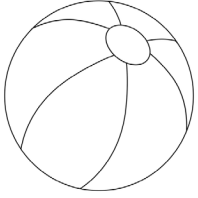
4- _____

Escribe la silaba con la que inicia cada dibujo









II. Pensamiento Matemático.

Dictado de números rango del 1 al 19

•	•
•	•
•	•

Completa la secuencia hasta el 19

1		3	
	6		


	10		
		15	
			20

Resuelve los problemas matemáticos


Resuelve este problema



El pastelero horneó 2 pasteles de frutilla



y luego preparó 7 más de chocolate



¿Cuántos pasteles cocinó en total?

$$\square + \square = \square$$

III. Exploración y Comprensión del Mundo Natural y Social

Dibuja alimentos

Alimentos saludables	Alimentos chatarra