


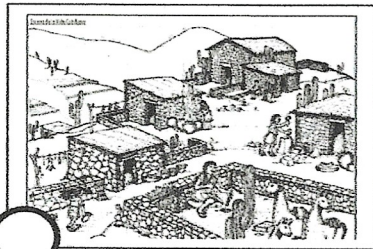
HISTORIA

APRENDIZAJE ESPERADO: Identifica la duración del periodo y la secuencia del origen del ser humano, del poblamiento de los continentes y de la sedentarización aplicando términos como siglo, milenio y a. C.

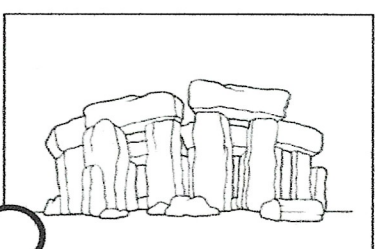
➤ Continúa usando los números del mapa conceptual de la hoja anterior y escríbelos donde corresponda.



Periodo de la prehistoria que duró alrededor de seis milenios.



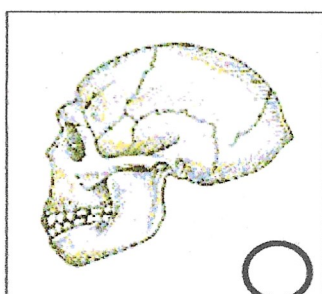
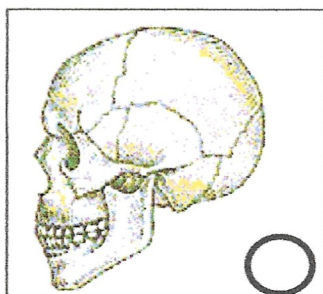
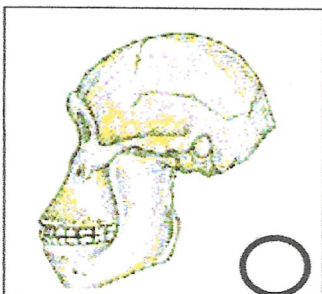
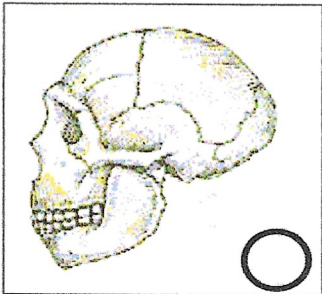
Zona que permitió la iniciación de la agricultura.



Edad de los metales. Periodo en que el uso de la piedra fue sustituida por el manejo del cobre, bronce y hierro.

Tipo de ofrendas utilizadas en el Neolítico.

➤ Los siguientes son restos fósiles de homínidos u hombres prehistóricos, escribe los números 1, 2, 3 y 4 según el orden en que fueron apareciendo.



¿Qué características tomaste en cuenta para hacer el ordenamiento? _____

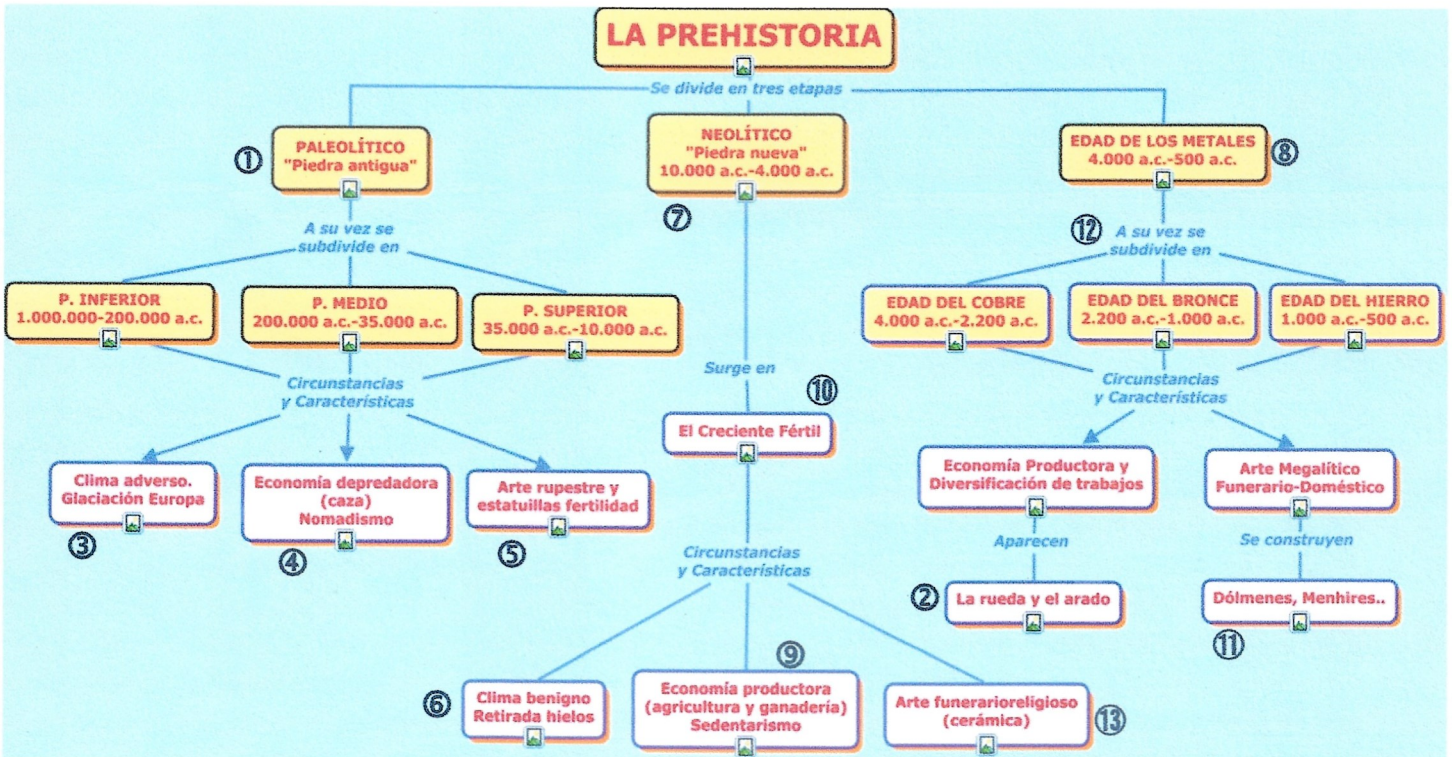


HISTORIA

NOMBRE DEL ALUMNO: _____

APRENDIZAJE ESPERADO: Identifica la duración del periodo y la secuencia del origen del ser humano, del poblamiento de los continentes y de la sedentarización aplicando términos como siglo, milenio y a. c.

➤ Observa el siguiente mapa conceptual; lee los planteamientos de abajo, después advertirás que muchos de los rectángulos tienen un número pequeño dentro de un círculo, úsalos para contestar lo que se pregunta.



- ✓ En todas las fechas aparecen las letras a. C. ¿qué significa? _____
- ✓ ¿Qué número tiene la etapa en que las armas y herramientas se fabricaron con piedras toscas y sin pulir?

- ✓ En la etapa de los metales surge la diversificación del trabajo, ¿cuáles inventos contribuyeron a esta división de oficios? _____
- ✓ Todavía existen en diversas regiones de Europa, cavernas donde aparecen grandes pinturas de animales y escenas de cacería. ¿Qué nombre reciben éstos? _____
- ✓ Fue el fenómeno climático que probablemente permitió el paso del hombre de Asia a América.

- ✓ La principal forma de vida en el paleolítico fue andar de un lado para otro, ¿a esto de le llamó?

- ✓ ¿Cuáles fueron las condiciones que permitieron el desarrollo de la agricultura y la ganadería en el Neolítico?
