


APRENDIZAJES ESPERADOS: Ubica el proceso de poblamiento de América y el surgimiento de la agricultura utilizando siglo, milenio, a.C. y d.C. Describe el origen y el proceso del poblamiento de América y del actual territorio mexicano. Identifica geográficamente Aridoamérica, Mesoamérica y Oasisamérica. Distingue las características del espacio geográfico de Aridoamérica, Mesoamérica y Oasisamérica.

COMPLETA el texto con las palabras del crucigrama.



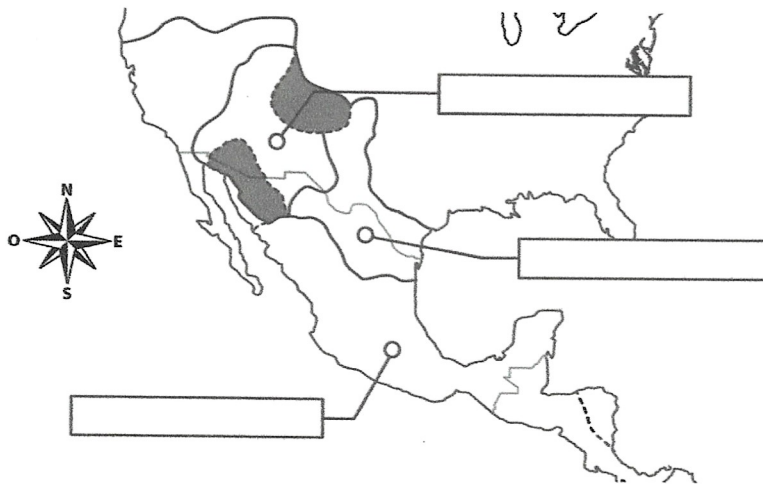
Horizontales

1. El poblamiento de América se originó durante la última _____.
2. Los primeros seres humanos cruzaron por el estrecho de _____.
5. Tiempo después desarrollaron la _____ y la domesticación de animales.

Verticales

3. En un principio vivían de la _____ y la recolección.
4. Por lo que tenían que trasladarse continuamente de un lugar a otro, es decir, eran _____.
6. Lo cual generó las primeras poblaciones _____.

ESCRIBE el nombre de cada cultura del México antiguo y colorea cada región.



Aridoamérica


Mesoamérica

Oasisamérica

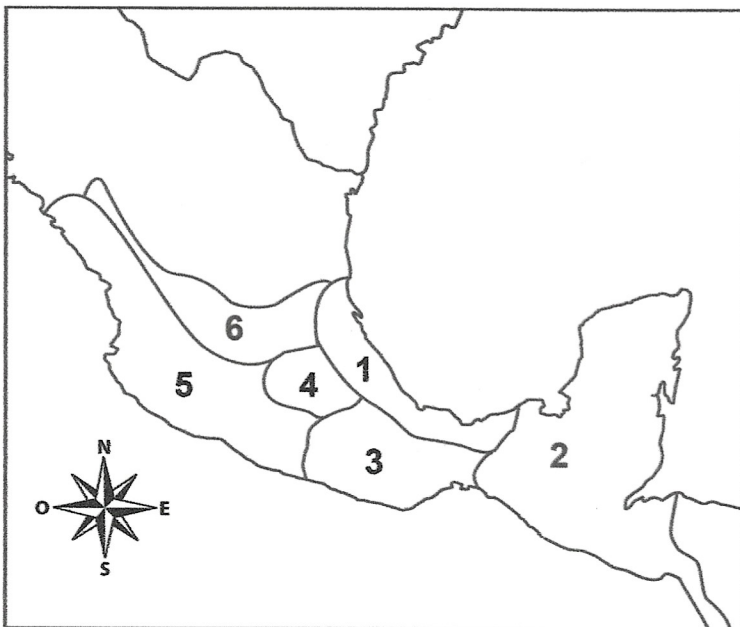
Glaciación, Beríng, caza, nómadas, agricultura, sedentarias.

APRENDIZAJE ESPERADO: Investiga aspectos de la cultura y de la vida cotidiana del pasado y valora su importancia. Ubica temporal y especialmente las culturas mesoamericanas aplicando los términos a.C. y d. C. Distingue las características y reconoce los aportes de las culturas Mesoamericanas y su relación con la naturaleza.

OBSERVA la imagen y explica con tus palabras ¿qué son las pinturas rupestres?, ¿con qué las pintaban? y ¿qué significado le daban nuestros antepasados? Puedes apoyarte en la página 22 de tu libro de Historia.



Ilumina de diferente color el mapa, identifica la ubicación de las siguientes culturas y escribe su nombre, puedes apoyarte en el libro de Historia, de la página 38 a la 41.



1. _____
2. _____
3. _____
4. _____
5. _____
6. _____